


Tafel van 10




10




20



30



40




50



60




70



80



90



100



**De eieren in de supermarkt worden doosjes met eieren verkocht.
In elke doos zitten 10 eieren.**

(a) Jona koopt 4 doosjes met eieren.

Hoeveel eieren koopt zij?

$$4 \times 10 = \square$$

Jona koopt eieren.

Tel in stapjes van 10:
10, 20, 30, 40



(b) Frida koopt 6 doosjes met eieren.

Hoeveel eieren koopt zij?

$$6 \times 10 = \square$$

Frida koopt eieren.

Tel in stapjes van 10:
10, 20, 30, 40, 50, 60



(c) Levi koopt 8 doosjes met eieren.

Hoeveel eieren koopt hij?

$$8 \times 10 = \square$$

Levi koopt eieren.

(d) Mieke koopt 2 doosjes met eieren.

Hoeveel eieren koopt zij?

$$2 \times 10 = \square$$

Mieke koopt eieren.




Kan jij ook terugtellen?


Vul de sommen aan:




$$1 \times 10 = 10$$



$$2 \times 10 = 20$$



$$\square \times 10 = 30$$




4 x 10 is tweemaal 2 x 10
 $4 \times 10 = 20 + 20$




$$2 \times 10 = 20$$


$$4 \times 10 = \square$$




$$5 \times 10 = \square$$




$6 \times 10 = \square$




$7 \times 10 = \square$



$8 \times 10 = \square$



$9 \times 10 = \square$



$5 \times 10 = \square$
 $10 \times 10 = \square$

Vul in:

$1 \times 10 =$

$2 \times 10 =$

$3 \times 10 =$

$4 \times 10 =$

$5 \times 10 =$

$6 \times 10 =$

$7 \times 10 =$

$8 \times 10 =$

$9 \times 10 =$

$10 \times 10 =$

$10 \times 1 =$

$10 \times 2 =$

$10 \times 3 =$

$10 \times 4 =$

$10 \times 5 =$

$10 \times 6 =$

$10 \times 7 =$

$10 \times 8 =$

$10 \times 9 =$

$10 \times 10 =$

Verhaaltjessommen

Gebruik het 'stappenplan verhaaltjessommen oplossen'

a) In één pak toiletpapier zitten 10 rollen.

Mark koopt 7 pakken toiletpapier.

Hoeveel rollen toiletpapier heeft hij nu in totaal?

$$7 \times 10 = \boxed{}$$

Mark heeft in totaal rollen toiletpapier.



b) Lotte koopt 10 kaartjes voor de film.

Elk film-kaartje kost €9,-

Hoeveel moet Lotte betalen?

Lotte betaald in totaal €



c) Florien koopt 3 boeken.

Elke lamp kost €10,-

Hoeveel moet Florien betalen?

Florien moet € betalen.



d) Menno gaat naar de winkel.

Hij betaald 4 briefjes van 10 euro.

Hoeveel betaald hij in totaal?

Menno betaald € in totaal.

