


Werkblad 1

Je hebt:



Welk speelgoed kan je met dit geldbedrag kopen?

Kan je ook meerdere dingen tegelijk kopen?



Werkblad 2

Je hebt:



Welk speelgoed kan je met dit geldbedrag kopen?

Kan je ook meerdere dingen tegelijk kopen?



Werkblad 3

Je hebt:



Welk speelgoed kan je hiermee kopen?

Kun je ook meerdere dingen tegelijk kopen?



Werkblad 4

Je hebt:























Welk speelgoed kan je met dit geldbedrag kopen?

Kun je ook meerdere dingen tegelijk kopen?



Werkblad 5

Je hebt:	Welk speelgoed kun je kopen?		
	 <p style="text-align: center;">€4,50</p>	 <p style="text-align: center;">€13,00</p>	 <p style="text-align: center;">€11,95</p>
	 <p style="text-align: center;">€29,95</p>	 <p style="text-align: center;">€9,25</p>	 <p style="text-align: center;">€23,50</p>
	 <p style="text-align: center;">€59,00</p>	 <p style="text-align: center;">€16,95</p>	 <p style="text-align: center;">€21,95</p>
	 <p style="text-align: center;">€61,50</p>	 <p style="text-align: center;">€58,95</p>	 <p style="text-align: center;">€16,75</p>
	 <p style="text-align: center;">€16,95</p>	 <p style="text-align: center;">€9,25</p>	 <p style="text-align: center;">€23,50</p>

