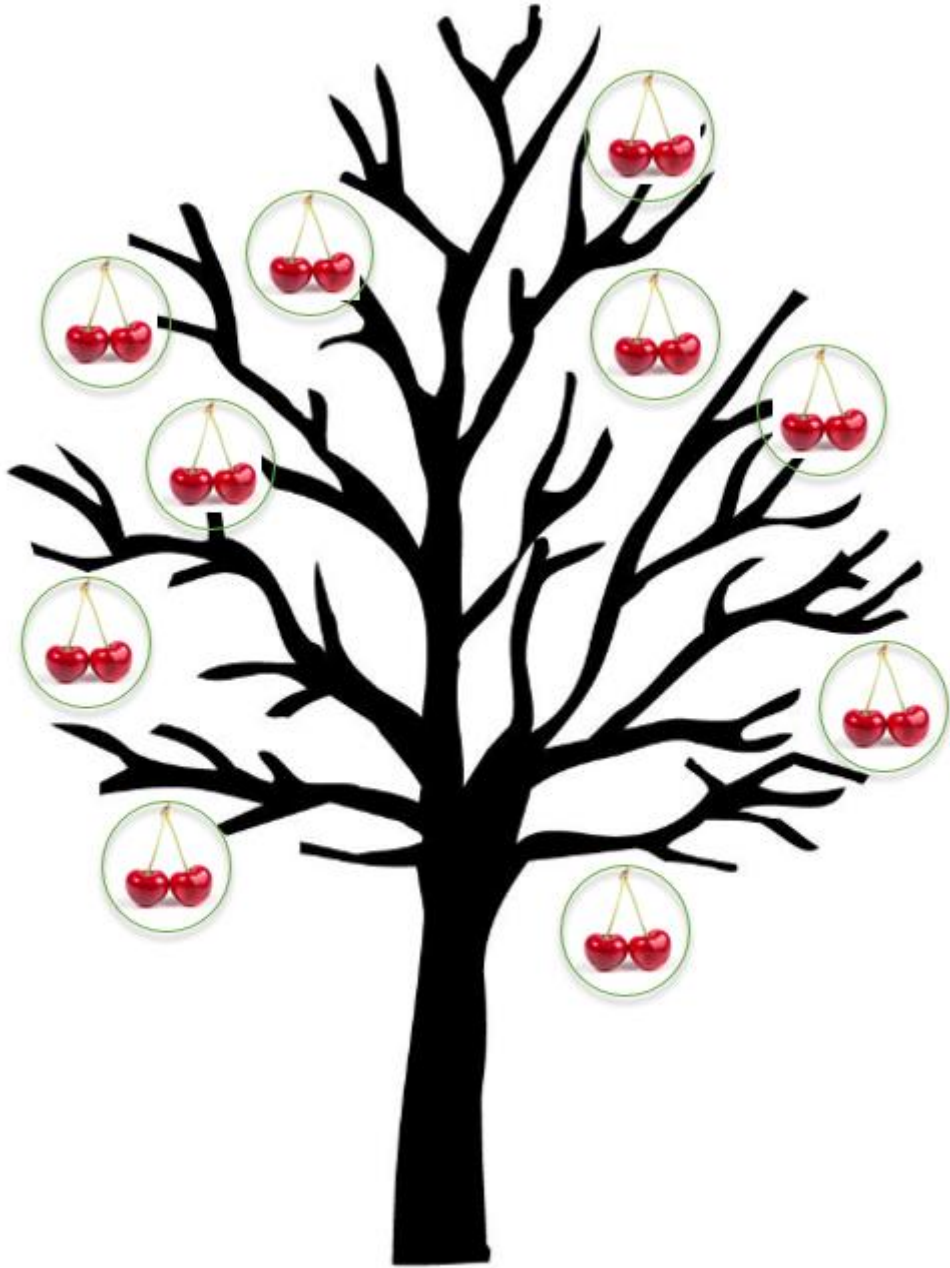


Tafel van 2



2 4 6 8 10 12 14 16 18 20

In de boom hangen 2 kersen aan een tak

(a) Hoeveel kersen hangen er aan 3 takken?

$$2 \times 3 = 6$$

Er hangen 6 kersen aan 3 takken

Tel in stapjes van
2: 2, 4, 6



(b) Hoeveel kersen hangen er aan 7 takken?

$$7 \times 2 = \square$$

Er hangen kersen aan 7 takken

Tel in stapjes van 2:
2, 4, 6, 8, 10, 12, 14



(c) Hoeveel kersen hangen er aan 4 takken?

$$4 \times 2 = \square$$

Er hangen kersen aan 4 takken

(d) Hoeveel kersen hangen er aan 5 takken?

$$5 \times 2 = \square$$

Er hangen kersen aan 5 takken

(e) Hoeveel kersen hangen er aan 8 takken?

$$8 \times 2 = \square$$

Er hangen kersen aan 8 takken



Kan jij ook terugtellen?

Vul de sommen aan:



$1 \times 2 = 2$



$4 \times 2 = 8$



$\square \times 2 = 10$



$\square \times 2 = \square$



$\square \times \square = \square$




$\square \times \square = \square$




$\square \times \square = \square$



$\square \times \square = \square$







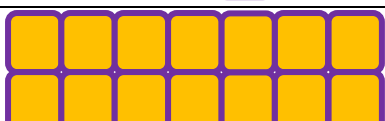
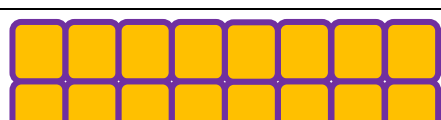

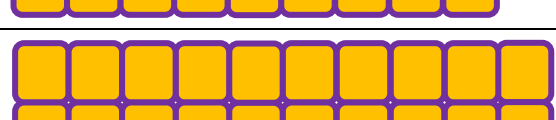


$$\square \times \square = \square$$



$$\square \times \square = \square$$

Vul de sommen aan:

	1×2	$= 2$
	2×2	$= 4$
	<input type="text"/> $\times 2$	$= 6$
	<input type="text"/> $\times 2$	$=$ <input type="text"/>
	<input type="text"/> \times <input type="text"/>	$=$ <input type="text"/>
	<input type="text"/> \times <input type="text"/>	$=$ <input type="text"/>
	<input type="text"/> \times <input type="text"/>	$=$ <input type="text"/>
	<input type="text"/> \times <input type="text"/>	$=$ <input type="text"/>
	<input type="text"/> \times <input type="text"/>	$=$ <input type="text"/>
	<input type="text"/> \times <input type="text"/>	$=$ <input type="text"/>

Vul aan:

$1 \times 2 =$

$2 \times 1 =$

$2 \times 2 =$

$2 \times 2 =$

$3 \times 2 =$

$2 \times 3 =$

$4 \times 2 =$

$2 \times 4 =$

$5 \times 2 =$

$2 \times 5 =$

$6 \times 2 =$

$2 \times 6 =$

$7 \times 2 =$

$2 \times 7 =$

$8 \times 2 =$

$2 \times 8 =$

$9 \times 2 =$

$2 \times 9 =$

$10 \times 2 =$

$2 \times 10 =$

Verhaaltjessommen

Gebruik het 'stappenplan verhaaltjessommen oplossen'


a) Berta heeft 6 touwen.

Elk touw is 2 meter lang.

Wat is de totale lengte van de touwen?


$$6 \times 2 = \square$$

De totale lengte is m




b) Een vogel heeft 2 vleugels.

Hoeveel vleugels hebben 6 vogels?



c) Op een feestje krijgt elk kind 2 ballonnen.

Hoeveel ballonnen krijgen 10 kinderen?



d) Bram spaart €5,- per week.

Hoeveel spaart hij in 2 weken?



e) Laura koopt 4 pakken koffie.

Elk pak koffie kost €2,-

Hoeveel moet ze betalen?



f) Er zitten 6 appels in één pak.

Hoeveel appels zitten er in 2 pakken?

