























## Afhalen met de getallenlijn

Kleur de stappen op de getallenlijn en reken uit. Maak daarbij gebruik van het stappenplan!

 <p>0 1 2 3 4 5 6 7 8 9 10 11 12 13 14 15 16 17 18 19 20</p>	$16 - \dots = 14$
 <p>0 1 2 3 4 5 6 7 8 9 10 11 12 13 14 15 16 17 18 19 20</p>	$18 - \dots = 15$
 <p>0 1 2 3 4 5 6 7 8 9 10 11 12 13 14 15 16 17 18 19 20</p>	$19 - \dots = 12$
 <p>0 1 2 3 4 5 6 7 8 9 10 11 12 13 14 15 16 17 18 19 20</p>	$12 - \dots = 10$
 <p>0 1 2 3 4 5 6 7 8 9 10 11 12 13 14 15 16 17 18 19 20</p>	$17 - \dots = 7$
 <p>0 1 2 3 4 5 6 7 8 9 10 11 12 13 14 15 16 17 18 19 20</p>	$14 - \dots = 12$
 <p>0 1 2 3 4 5 6 7 8 9 10 11 12 13 14 15 16 17 18 19 20</p>	$15 - \dots = 10$
 <p>0 1 2 3 4 5 6 7 8 9 10 11 12 13 14 15 16 17 18 19 20</p>	$19 - \dots = 18$
 <p>0 1 2 3 4 5 6 7 8 9 10 11 12 13 14 15 16 17 18 19 20</p>	$18 - \dots = 11$
 <p>0 1 2 3 4 5 6 7 8 9 10 11 12 13 14 15 16 17 18 19 20</p>	$17 - \dots = 12$
 <p>0 1 2 3 4 5 6 7 8 9 10 11 12 13 14 15 16 17 18 19 20</p>	$16 - \dots = 13$

 0 1 2 3 4 5 6 7 8 9 10 11 12 13 14 15 16 17 18 19 20	___ - ___ =
 0 1 2 3 4 5 6 7 8 9 10 11 12 13 14 15 16 17 18 19 20	___ - ___ =
 0 1 2 3 4 5 6 7 8 9 10 11 12 13 14 15 16 17 18 19 20	___ - ___ =
 0 1 2 3 4 5 6 7 8 9 10 11 12 13 14 15 16 17 18 19 20	___ - ___ =
 0 1 2 3 4 5 6 7 8 9 10 11 12 13 14 15 16 17 18 19 20	___ - ___ =
 0 1 2 3 4 5 6 7 8 9 10 11 12 13 14 15 16 17 18 19 20	___ - ___ =
 0 1 2 3 4 5 6 7 8 9 10 11 12 13 14 15 16 17 18 19 20	___ - ___ =
 0 1 2 3 4 5 6 7 8 9 10 11 12 13 14 15 16 17 18 19 20	___ - ___ =
 0 1 2 3 4 5 6 7 8 9 10 11 12 13 14 15 16 17 18 19 20	___ - ___ =
 0 1 2 3 4 5 6 7 8 9 10 11 12 13 14 15 16 17 18 19 20	___ - ___ =
 0 1 2 3 4 5 6 7 8 9 10 11 12 13 14 15 16 17 18 19 20	___ - ___ =