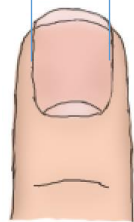


# Meten in centimeters

Een centimeter is ongeveer even breed als je vingernagel. Meet hem maar eens op met je liniaal!

**Centimeter** schrijven we op als: **cm**



$\approx 1 \text{ cm}$

# 1. Meet op in centimeters:



De slak is  cm lang.

De rups is  cm lang.

De slak is  cm korter dan de rups.

De rups is  cm langer dan de slak.

## 2. Meet op in centimeters:



De paperclip is  cm lang.



De schroevendraaier is  cm lang.


De schroevendraaier is  cm langer dan de paperclip.

De paperclip is  cm korter dan de schroevendraaier.

### 3a. Meet je handen op.



Handbreedte



Handlengte



Lengte duim tot pols

Mijn hand is ongeveer  cm breed.

Mijn hand is ongeveer  cm lang.

De lengte van mijn duim tot mijn pols is ongeveer  cm lang.

(b) Wat is langer, de breedte of de lengte van je hand?

(c) Hoeveel langer?


(d) Hoe kan je dit handig gebruiken?

**4. Knip een stuk touw af dat net zolang is als de onderstaande lijn.**

Meet vervolgens de lengte van het touw op met je liniaal.



**5. Meet nu deze lijnen op:**



- (a) Lijn A is ongeveer  cm lang.
- (b) Lijn B is ongeveer  cm lang.
- (c) Welke lijn is langer?
- (d) Hoeveel langer?