


Delen | verdelen in gelijke groepen

Vul de ontbrekende getallen in


Verdeel 15 hartjes in 3 gelijke groepen.

Er zijn hartjes in elke groep.



Verdeel 15 hartjes in groepjes van 3.

Er zijn groepjes.




Verdeel 10 peren in 2 gelijke groepen.
Hoeveel peren zijn er in elke groep?



Er zijn peren in elke groep

Verdeel 12 eieren tussen 2 kinderen.
Hoeveel eieren krijgt ieder kind?



Ieder kind krijgt eieren.

Verdeel 14 paaseitjes eerlijk over 2 bakjes.



Er zijn in elk bakje.

Er zijn 20 schelpen.

Leg in elk rondje 5 schelpen.

Hoeveel groepen met schelpen zijn er?



Er zijn groepen in totaal.


Verdeel 12 appels in groepjes van 3.

Hoeveel groepen zijn er?



Er zijn groepen in totaal.

Verdeel 15 sinaasappelen in groepjes van 5.
Hoeveel groepen zijn er?




Er zijn groepen.



Verdeel de 20 snoepjes eerlijk onder 5 kinderen.



Hoeveel snoepjes krijgt ieder kind?

Ieder kind krijgt snoepjes



Mevrouw Mandjes wil 16 mandarijnen eerlijk verdelen in zakjes. Ze stopt 4 mandarijnen in elke zakje. Hoeveel zakjes heeft mevrouw Mandjes nodig?

Mevrouw mandjes heeft zakjes nodig.



Verdeel deze 18 visjes in groepjes van 3.
Hoeveel groepen zijn er dan?

Er zijn groepen.